

*Acest auxiliar didactic este aprobat pentru utilizarea în unitățile de învățământ preuniversitar prin O.M.E.N. nr. 3022/08.01.2018.*

*Lucrarea este elaborată în conformitate cu Programul școlar în vigoare pentru clasa a V-a, aprobată prin O.M.E.N. nr. 3393/28.02.2017.*

**Referință științifică:** Lucrarea a fost definitivată prin contribuția și recomandările Comisiei științifice și metodice a publicațiilor Societății de Științe Matematice din România. Aceasta și-a dat avizul favorabil în ceea ce privește alcătuirea și conținutul matematic.

Redactare: Andreea Roșca, Roxana Pietreanu

Tehnoredactare: Iuliana Ene

Pregătire de tipar: Marius Badea

Design copertă: Mirona Pintilie

**Descrierea CIP a Bibliotecii Naționale a României**

**TUDOR, ION**

**Matematică : aritmetică, algebră, geometrie : modalități de lucru diferențiate, pregătire suplimentară prin planuri individualizate : caiet de lucru : [clasa] 5 / Ion Tudor. - Ed. a 7-a. - Pitești : Paralela 45, 2023-2 vol.**

ISBN 978-973-47-3889-2

**Partea 1. - 2023. - ISBN 978-973-47-3890-8**

51

**COMENZI – CARTEA PRIN POȘTĂ**

EDITURA PARALELA 45

Bulevardul Republicii, Nr. 148, Clădirea C1, etaj 4, Pitești,  
jud. Argeș, cod 110177

Tel.: 0248 633 130; 0753 040 444; 0721 247 918

Tel./fax: 0248 214 533; 0248 631 439; 0248 631 492

E-mail: [comenzi@edituraparelela45.ro](mailto:comenzi@edituraparelela45.ro)

sau accesați [www.edituraparelela45.ro](http://www.edituraparelela45.ro)

Tiparul executat la tipografia *Editurii Paralela 45*

E-mail: [tipografie@edituraparelela45.ro](mailto:tipografie@edituraparelela45.ro)

Copyright © Editura Paralela 45, 2023

Prezenta lucrare folosește denumiri ce constituie mărci înregistrate,

iar conținutul este protejat de legislația privind dreptul de proprietate intelectuală.

[www.edituraparelela45.ro](http://www.edituraparelela45.ro)

Ion TUDOR

# matematică

aritmetică, algebră, geometrie

- Modalități de lucru diferențiate
- Pregătire suplimentară prin planuri individualizate

Caiet de lucru

**Partea I**

**5**

Ediția a VII-a

Editura Paralela 45

## Teste de evaluare inițială

### Testul 1

Se acordă 1 punct din oficiu.

Partea I – Scrieți litera corespunzătoare singurului răspuns corect:

- (0,5p) 1. Rezultatul calculului  $9 \times 8$  este egal cu:  
A. 64; B. 54; C. 72; D. 56.
- (0,5p) 2. Dublul numărului 50 este egal cu:  
A. 40; B. 100; C. 120; D. 60.
- (0,5p) 3. Cel mai mic număr impar de trei cifre diferite este:  
A. 102; B. 123; C. 111; D. 103.
- (0,5p) 4. Numărul natural par de patru cifre mai mare decât 9996 este:  
A. 9998; B. 9997; C. 9999; D. 9996.
- (0,5p) 5. Numărul mai mare cu 385 decât 1064 este egal cu:  
A. 1542; B. 1449; C. 1500; D. 1349.
- (0,5p) 6. Numărul mai mic cu 407 decât 2106 este egal cu:  
A. 1699; B. 1799; C. 1589; D. 1649.
- (0,5p) 7. Numărul de 6 ori mai mare decât 75 este egal cu:  
A. 750; B. 475; C. 460; D. 450.
- (0,5p) 8. Câtul împărțirii  $182 : 7$  este egal cu:  
A. 24; B. 37; C. 26; D. 35.
- (0,5p) 9. Rezultatul calculului  $6 - 2 : 2$  este egal cu:  
A. 4; B. 2; C. 7; D. 5.

Partea a II-a – La următoarele probleme se cer rezolvări complete:

- (0,8p) 1. Calculați  $10 \cdot [235 : 5 + 92 : (23 \cdot 6 - 134)]$ .
2. Determinați cifra  $x$  pentru care:
- (0,8p) a)  $\overline{86x1} > \overline{8x51}$ ;
- (0,7p) b)  $\overline{86x1} < \overline{8x51}$ .
3. Radu a cheltuit suma de 270 lei în patru zile. În prima zi a cheltuit a treia parte din sumă, în ziua următoare a cheltuit a cincea parte din suma rămasă, iar suma cheltuită a treia zi a fost egală cu diferența sumelor de bani cheltuite în primele două zile.
- (0,8p) a) Calculați suma de bani cheltuită a doua zi.
- (0,7p) b) Calculați suma de bani cheltuită a treia zi.
- (0,7p) c) Calculați suma de bani cheltuită a patra zi.

# ALGEBRĂ

## Capitolul I

### NUMERE NATURALE

#### Lecția 1. Scrierea și citirea numerelor naturale



#### Citesc și rețin

**Scrierea** unui număr natural se face cu ajutorul a zece simboluri numite **cifre**. Acestea sunt: 0, 1, 2, 3, 4, 5, 6, 7, 8, 9. Cu ajutorul acestora putem scrie numere naturale cu două sau mai multe cifre, respectând următoarele reguli:

- prima cifră a unui număr natural format din două sau mai multe cifre este diferită de zero;
- în scrierea unui număr natural orice cifră se poate repeta sau nu.

Acest mod de scriere a unui număr natural se numește **scriere în sistem zecimal** sau **scriere în baza zece**, pentru că zece unități de un anumit ordin formează o unitate de ordin imediat superior.

Un număr natural de două cifre se scrie  $\overline{ab}$ ,  $a \neq 0$ , iar  $\overline{ba}$  se numește **răsturnatul** său dacă  $b \neq 0$ .

Un număr natural de trei cifre se scrie  $\overline{abc}$ ,  $a \neq 0$ , iar  $\overline{cba}$  se numește **răsturnatul** său dacă  $c \neq 0$  și așa mai departe.

**Citirea** unui număr natural se face grupând cifrele câte trei de la dreapta spre stânga. Aceste grupe se numesc **clase**. În ordine, de la dreapta la stânga avem: clasa unităților, clasa miilor, clasa milioaneilor, clasa miliardelor etc. Cele trei cifre din fiecare clasă reprezintă de la dreapta la stânga cifra de ordinul unităților, cifra de ordinul zecilor, respectiv cifra de ordinul sutelor de unități din clasa respectivă. Din acest motiv, scrierea numerelor naturale în baza zece este o scriere pozițională, deoarece valoarea fiecărei cifre este dată de poziția pe care o ocupă.

s	z	u	s	z	u	s	z	u	s	z	u
clasa miliardelor			clasa milioaneilor			clasa miilor			clasa unităților		

#### Numere naturale pare. Numere naturale impare

Orice număr natural care are cifra unităților 0, 2, 4, 6 sau 8 se numește **număr par**.

Orice număr natural care are cifra unităților 1, 3, 5, 7 sau 9 se numește **număr impar**.

Numerele naturale scrise în ordinea succesivă: 0, 1, 2, ..., 9, 10, 11, ..., 99, 100, 101, ... formează **șirul numerelor naturale**.

Dacă  $n$  este un număr natural mai mare ca zero, atunci numărul  $n - 1$  se numește **predecesorul** său, iar numărul  $n + 1$  se numește **succesorul** său.

Dacă  $n$  este un număr natural, atunci  $n$  și  $n + 1$  se numesc **numere naturale consecutive**.



### Cum se aplică?

1. Scrieți următoarele numere naturale:

- a) șase mii cincizeci și patru;
- b) nouăzeci și trei de mii cinci;
- c) cinci sute șase mii treizeci.

**Soluție:**

- a) 6054;
- b) 93005;
- c) 506030.

2. Se consideră numărul  $\underline{6} 3 0 4 \underline{8} \underline{1} 7 5$ . Precizați clasa și ordinul cifrelor subliniate.

**Soluție:**

- Cifra 1 face parte din clasa unităților și este de ordinul sutelor.
- Cifra 8 face parte din clasa miilor și este de ordinul unităților.
- Cifra 6 face parte din clasa milioanei și este de ordinul zecilor.

3. Determinați numerele naturale impare de forma  $\overline{3x7y}$  care au suma cifrelor egală cu 17.

**Soluție:**

$3 + x + 7 + y = 17$ , deci  $x + y = 17 - 10$ , de unde rezultă că  $x + y = 7$ . Deoarece numerele  $\overline{3x7y}$  sunt impare, deducem că  $y$  poate fi 1, 3, 5 sau 7, prin urmare valorile corespunzătoare ale lui  $x$  sunt 6, 4, 2, respectiv 0. Numerele cerute sunt: 3671, 3473, 3275 și 3077.



### Știu să rezolv

#### Exerciții și probleme de dificultate minimă

1. Citiți următoarele numere naturale:

- a) 358;
- b) 504;
- c) 612;
- d) 790;
- e) 4123;
- f) 5017;
- g) 6704;
- h) 9820;
- i) 12345;
- j) 42038;
- k) 50821;
- l) 83106.

2. Citiți următoarele numere naturale:

- a) 523149;
- b) 603468;
- c) 700207;
- d) 206046;
- e) 1020400;
- f) 2203109;
- g) 6006005;
- h) 40401108.

3. Completați spațiile punctate cu răspunsul corect.

- a) Numerele naturale de două cifre diferite scrise cu cifrele 1 și 8 sunt:  
.....
- b) Numerele naturale de trei cifre (nu toate identice) scrise cu cifrele 2 și 5 sunt:  
.....
- c) Numerele naturale de trei cifre diferite scrise cu cifrele 0, 4 și 9 sunt:  
.....

4. Completați spațiile punctate cu răspunsul corect.

- a) Numerele naturale impare de trei cifre diferite scrise cu cifrele 1, 6 și 9 sunt:  
.....
- b) Numerele naturale pare de patru cifre diferite scrise cu cifrele 0, 5, 7 și 8 sunt:  
.....

## Lecția 9. Împărțirea cu rest zero a numerelor naturale



### Citesc și rețin

**Câțul** a două numere naturale  $a$  și  $b$ ,  $b \neq 0$ , notat  $a : b$ , dacă există, este acel unic număr natural  $c$ , pentru care  $a = b \cdot c$ . Numerele  $a$  și  $b$  se numesc **factorii împărțirii**; numărul  $a$  se numește **deîmpărțit**, iar  $b$  se numește **împărțitor**.

Operația prin care se obține numărul natural  $c$  se numește **împărțirea exactă** a lui  $a$  la  $b$ .

#### Observații:

- Câțul a două numere naturale nu este totdeauna număr natural.
- Pentru orice număr natural  $b \neq 0$  avem:  $0 : b = 0$ .
- Proba împărțirii  $a : b = c$  se poate face printr-o altă împărțire ( $a : c = b$ ) sau printr-o înmulțire ( $a = b \cdot c$ ).



### Cum se aplică?

- Efectuați împărțirile:

a)  $760 : 10$ ;

b)  $8055 : 9$ ;

c)  $82647 : 27$ .

**Soluție:**

a)  $760 : 10 = 76$ ;

b)  $8055 : 9 = 895$ ;

c)  $82647 : 27 = 3061$ .

$$\begin{array}{r|l} 8055 & 9 \\ \hline 72 & 895 \\ \hline 85 & \\ \hline 81 & \\ \hline 45 & \\ \hline 45 & \\ \hline \equiv & \end{array}$$

$$\begin{array}{r|l} 82647 & 27 \\ \hline 81 & 3061 \\ \hline 164 & \\ \hline 162 & \\ \hline 27 & \\ \hline 27 & \\ \hline \equiv & \end{array}$$

- Aflați de câte ori este mai mare câțul numerelor 147600 și 100 decât numărul natural 12.

**Soluție:**

Calculăm întâi câțul numerelor 147600 și 100;  $147600 : 100 = 1476$ ; apoi efectuăm împărțirea  $1476 : 12 = 123$ .

- Știind că  $4008 : n = 167$ , determinați numărul natural  $n$ ,  $n \neq 0$ .

**Soluție:**

$4008 : n = 167$ , de unde rezultă că  $n = 4008 : 167$  și efectuând împărțirea obținem  $n = 24$ .



### Știu să rezolv

#### Exerciții și probleme de dificultate minimă

- Efectuați:

a)  $51 : 3 = \square \square$

b)  $84 : 4 = \square \square$

c)  $65 : 5 = \square \square$

d)  $96 : 6 = \square \square$

e)  $99 : 9 = \square \square$

f)  $90 : 6 = \square \square$

g)  $96 : 8 = \square \square$

h)  $91 : 7 = \square \square$

2. Ștefan a plătit pentru 7 becuri de iluminat de același fel suma de 98 lei. Calculați prețul unui bec de iluminat.

--	--	--	--	--	--	--	--	--	--	--	--	--	--	--	--	--	--	--	--	--

3. Efectuați:

a)  $489 : 3 = \square\square\square$    b)  $492 : 6 = \square\square\square$    c)  $612 : 4 = \square\square\square$    d)  $742 : 7 = \square\square\square$   
e)  $238 : 7 = \square\square\square$    f)  $486 : 9 = \square\square\square$    g)  $534 : 6 = \square\square\square$    h)  $752 : 8 = \square\square\square$

4. De-a lungul unui trotuar cu lungimea de 810 m s-au amenajat parcări. Știind că o parcare are lungimea de 5 m, calculați numărul de parcări amenajate.

--	--	--	--	--	--	--	--	--	--	--	--	--	--	--	--	--	--	--	--	--

5. Aflați câtul numerelor și apoi efectuați proba împărțirilor:

a) 416 și 13;                      b) 770 și 14;                      c) 810 și 15;                      d) 768 și 12;  
e) 784 și 16;                      f) 986 și 17;                      g) 864 și 18;                      h) 945 și 21.

c)																				
h)																				

6. O librărie a vândut într-o lună 75 de exemplare din nuvela *Moara cu noroc*, scrisă de Ioan Slavici, încasând suma de 1350 lei. Calculați prețul unui exemplar.

--	--	--	--	--	--	--	--	--	--	--	--	--	--	--	--	--	--	--	--	--

7. Efectuați:

a)  $450 : 10 = \square\square$                       b)  $510 : 10 = \square\square$                       c)  $720 : 10 = \square\square$   
d)  $7060 : 10 = \square\square\square$                       e)  $8400 : 10 = \square\square\square$                       f)  $9000 : 10 = \square\square\square$

8. Un elev, citind câte 15 pagini pe zi, a terminat un roman în două săptămâni. Aflați câte pagini trebuia să citească elevul în fiecare zi, pentru a termina romanul în 10 zile.

--	--	--	--	--	--	--	--	--	--	--	--	--	--	--	--	--	--	--	--	--

9. Efectuați:

a)  $5400 : 100 = \dots\dots\dots$ ;   b)  $6800 : 100 = \dots\dots\dots$ ;   c)  $9000 : 100 = \dots\dots\dots$ ;  
d)  $69000 : 100 = \dots\dots\dots$ ;   e)  $20800 : 100 = \dots\dots\dots$ ;   f)  $60000 : 100 = \dots\dots\dots$  .

10. Salariile pe o lună, pentru o echipă de muncitori, în valoare de 36500 lei au fost achitate în bancnote de 100 lei. Calculați numărul bancnotelor cu valoarea de 100 lei.

--	--	--	--	--	--	--	--	--	--	--	--	--	--	--	--	--	--	--	--	--



## Teste de evaluare sumativă

### Testul 1

*Se acordă 1 punct din oficiu.*

- (2p) 1. Se consideră numerele naturale  $x = 405$  și  $y = 116$ . Calculați:  
a) suma numerelor  $x$  și  $y$ ;                      b) diferența numerelor  $x$  și  $y$ .
- (2p) 2. Calculați:  
a)  $31 \cdot 1000$ ;    b)  $12 \cdot 45$ .
- (1p) 3. Peste 15 ani, o persoană va avea vârsta de 53 de ani. Aflați anul în care s-a născut persoana respectivă.
- (1p) 4. Determinați câtul și restul împărțirii  $7629 : 28$  și apoi faceți proba.
- (1p) 5. Rotunjiți la sute de mii numărul natural  $n = 985 \cdot 218 + 376 \cdot 985 - 594 \cdot 385$ .
- (2p) 6. Determinați numerele naturale nenule care împărțite la 25 dau câtul de 9 ori mai mic decât restul.

### Testul 2

*Se acordă 1 punct din oficiu.*

- (2p) 1. Se consideră numerele naturale  $a = 275$  și  $b = 167$ . Calculați:  
a) suma numerelor  $a$  și  $b$ ;                      b) diferența numerelor  $a$  și  $b$ .
- (2p) 2. Se consideră numărul natural  $n = 400$ . Aflați numărul care este mai mic decât  $n$  de:  
a) 10 ori;    b) 16 ori.
- (1p) 3. Un elev are în prezent vârsta de 12 ani. Aflați anul în care elevul va avea vârsta de trei ori mai mare.
- (1p) 4. Determinați numărul natural  $n = 1526 \cdot 87 - 1526 + 14 \cdot 1526$ .
- (1p) 5. Suma a trei numere naturale consecutive este egală cu 2013. Aflați cele trei numere.
- (2p) 6. Rotunjiți la sute suma numerelor naturale de două cifre care împărțite la 12 dau câtul egal cu restul.

### Testul 3

*Se acordă 1 punct din oficiu.*

- (2p) 1. Se consideră numerele naturale  $x = 302$  și  $y = 208$ . Calculați:  
a) suma numerelor  $x$  și  $y$ ;                      b) diferența numerelor  $x$  și  $y$ .
- (2p) 2. Se consideră numărul natural  $n = 52$ . Aflați numărul care este mai mare decât  $n$  de:  
a) 100 de ori;    b) 25 de ori.
- (1p) 3. Diferența a două numere naturale este egală cu 3058. Aflați scăzătorul dacă descăzutul este egal cu 11035.
- (1p) 4. Determinați numărul natural  $x$  pentru care câtul numerelor 4920 și  $x$  este egal cu 24.
- (1p) 5. Determinați numărul natural  $m$ , știind că  $3n - p = 4$  și  $9mn - 3mp = 648$ .
- (2p) 6. Mai multe numere naturale consecutive de trei cifre se împart la 7, produsul resturilor obținute fiind egal cu 120. Aflați numerele cu această proprietate care au suma minimă.





## Lecția 16. Ordinea efectuării operațiilor și folosirea parantezelor



### Citesc și rețin

Reamintim: adunarea și scăderea sunt operații de **ordinul I**, înmulțirea și împărțirea sunt operații de **ordinul II**, iar ridicarea la putere este operație de **ordinul III**.

În efectuarea operațiilor dintr-un exercițiu vom utiliza următoarele reguli:

1. Dacă un exercițiu conține numai operații de același ordin, acestea se efectuează în ordinea în care sunt scrise, de la stânga la dreapta.

2. Dacă un exercițiu conține operații de ordine diferite, efectuăm:

– mai întâi operațiile de ordinul III (ridicarea la putere);

– apoi operațiile de ordinul II (înmulțirea și împărțirea);

– apoi operațiile de ordinul I (adunarea și scăderea).

3. Dacă un exercițiu conține mai multe tipuri de paranteze, efectuăm mai întâi operațiile din parantezele rotunde; parantezele pătrate se transformă în paranteze rotunde, iar acoladele se transformă în paranteze pătrate ș.a.m.d.



### Cum se aplică?

1. Efectuați:

a)  $2^4 - 24 : 3$ ;

b)  $81 : 3^2 + 57$ ;

c)  $29^2 - 2^3 \cdot 29$ .

**Soluție:**

a)  $2^4 - 24 : 3 = 16 - 8 = 8$ ;

b)  $81 : 3^2 + 57 = 81 : 9 + 57 = 9 + 57 = 66$ ;

c)  $29^2 - 2^3 \cdot 29 = 29(29 - 2^3) = 29(29 - 8) = 29 \cdot 21 = 609$ .

2. Calculați:

a)  $(7^2 + 35) \cdot 10$ ;

b)  $10^2 : (77 - 6^3 : 8)$ ;

c)  $[(7 \cdot 7^2)^3 : 7^7 + 7^0] : 5$ .

**Soluție:**

a)  $(7^2 + 35) \cdot 10 = (49 + 35) \cdot 10 = 84 \cdot 10 = 840$ ;

b)  $10^2 : (77 - 6^3 : 8) = 100 : (77 - 216 : 8) = 100 : (77 - 27) = 100 : 50 = 2$ ;

c)  $[(7 \cdot 7^2)^3 : 7^7 + 7^0] : 5 = [(7^3)^3 : 7^7 + 1] : 5 = (7^9 : 7^7 + 1) : 5 = (7^2 + 1) : 5 = (49 + 1) : 5 = 50 : 5 = 10$ .

3. Calculați:  $10^3 \cdot [(5^{12} + 4 \cdot 5^{12}) : 25^5 - 11^0]$ .

**Soluție:**

$$10^3 \cdot [(5^{12} + 4 \cdot 5^{12}) : 25^5 - 11^0] = 1000 \cdot \{[5^{12}(1 + 4)] : (5^2)^5 - 1\} = 1000 \cdot [(5^{12} \cdot 5) : 5^{10} - 1] = 1000 \cdot (5^{13} : 5^{10} - 1) = 1000 \cdot (5^3 - 1) = 1000 \cdot 124 = 124000.$$



### Știu să rezolv

#### Exerciții și probleme de dificultate minimă

1. Calculați:

a)  $51 \cdot 10 + 352$ ;

b)  $85 \cdot 10 - 607$ ;

c)  $10 \cdot 69 - 584$ ;

d)  $4349 + 25 \cdot 100$ ;

e)  $5607 - 100 \cdot 42$ ;

f)  $7804 - 59 \cdot 100$ .



# Capitolul II

## DIVIZIBILITATEA NUMERELOR NATURALE

### Lecția 18. Divizor. Multiplu



#### Citesc și rețin

**Definiție:** Spunem că un număr natural  $a$  se **divide** cu numărul natural  $b$  dacă există un număr natural  $c$ , astfel încât  $a = b \cdot c$ .

Numărul  $a$  se numește **multiplu** al lui  $b$ , iar  $b$  se numește **divizor** al lui  $a$ .

Vom scrie:  $b \mid a$  și citim „ $b$  divide pe  $a$ ” sau  $a : b$  și citim „ $a$  se divide cu  $b$ ”.

**Definiții:**

1. Divizorii 1 și  $a$  ai numărului natural  $a$  se numesc **divizori improprii**.
2. Divizorii numărului natural  $a$  diferiți de 1 și  $a$ , în cazul în care există, se numesc **divizori proprii**.



#### Cum se aplică?

1. Arătați că 30 de trandafiri se pot planta pe rânduri de câte 6 exemplare și apoi completați spațiile punctate cu răspunsul corect.

a) Deoarece 30 se împarte exact la 6, spunem că 6 este .....divizor..... al lui 30.

b) Deoarece 30 se împarte exact la 6, spunem că 30 este .....multiplu..... al lui 6.

**Soluție:**

Deoarece  $30 : 6 = 5$ , rezultă că cei 30 de trandafiri se pot planta pe 5 rânduri de câte 6 trandafiri.

2. Arătați că 5 elevi pot transporta la bibliotecă în mod egal 65 de manuale și apoi stabiliți valoarea de adevăr a următoarelor propoziții:

a)  $65 : 5$ ;

b)  $65 \mid 5$ ;

c)  $5 \mid 65$ ;

d)  $5 : 65$ .

**Soluție:**

Deoarece  $65 : 5 = 13$ , rezultă că fiecare elev a transportat câte 13 manuale la bibliotecă, prin urmare valorile de adevăr ale propozițiilor sunt:

a) A;

b) F;

c) A;

d) F.

3. a) Scrieți divizorii numărului natural 81.

b) Scrieți multiplii mai mici decât 47 ai numărului natural 15.

**Soluție:**

a) 1, 3, 9, 27, 81.

b) 0, 15, 30, 45.



#### Știu să rezolv

#### Exerciții și probleme de dificultate minimă

1. Arătați că pe 3 rafturi pot fi depozitate în mod egal 24 de borcane cu dulceață și apoi completați spațiile punctate cu răspunsul corect.

a) Deoarece 24 se împarte exact la 3, spunem că 3 este ..... al lui 24.

b) Deoarece 24 se împarte exact la 3, spunem că 24 este ..... al lui 3.



## Model de test pentru Evaluarea Națională

Capitolul: Divizibilitatea numerelor naturale

### PARCUL NAȚIONAL PIATRA CRAIULUI

Parcul Național Piatra Craiului, cu suprafața de 14800 ha, se află pe teritoriul județelor Argeș și Brașov. Crearea Parcului Național Piatra Craiului a fost motivată de originalitatea geografică a masivului muntos Piatra Craiului și de biodiversitatea florei și faunei.

Pentru a răspunde la cerințele 1-3, citiți următorul text:

Mihai, elev de clasa a V-a, a căutat pe internet informații despre cele mai înalte vârfuri din masivul muntos Piatra Craiului, unde urma să meargă într-o expediție împreună cu părinții. Informațiile obținute sunt înregistrate în următorul tabel:

Numele vârfului	Vârful Ascuțit	Piatra Mică	Pietricica	Piscul Baciului
Înălțimea	2150 m	1816 m	1764 m	2237 m

#### Încercuiți litera corespunzătoare răspunsului corect.

- Conform informațiilor din tabel, numele vârfului muntos a cărui înălțime este un număr natural multiplu al lui 10 este:  
A. Vârful Ascuțit; B. Piatra Mică; C. Pietricica; D. Piscul Baciului.
- Conform informațiilor din tabel, înălțimea vârfului muntos Piatra Mică este un număr natural divizibil cu:  
A. 3; B. 4; C. 5; D. 9.
- Conform informațiilor din tabel, numele vârfului muntos a cărui înălțime este un număr natural divizibil cu 9 este:  
A. Vârful Ascuțit; B. Piatra Mică; C. Pietricica; D. Piscul Baciului.

Pentru a răspunde la cerințele 4-6, citiți următorul text:

Mihai a programat împreună cu părinții săi expediția din masivul muntos Piatra Craiului în luna august.

Expediția avea ca obiectiv traversarea vârfului Piatra Mică într-o singură zi, urmând un traseu turistic marcat.

La ora 8, înainte de a porni ascensiunea, cele 21 kg de echipament, apă și hrană au fost repartizate astfel: cantitatea din rucsacul tatălui se exprimă prin cel mai mic număr prim de două cifre, iar cantitățile repartizate mamei și lui Mihai sunt două numere compuse, rucsacul lui Mihai fiind cel mai ușor. Datorită consumului de apă până la ora 13 când au ajuns în vârf, rucsacul mamei cântărea mai puțin cu 2 kg, iar după masa de la ora 13 și rucsacul tatălui cântărea mai puțin cu 2 kg. În aceste condiții, o parte din cantitatea de echipament din rucsacul tatălui, exprimată printr-un număr natural, a fost mutată în rucsacul mamei. După această operație, Mihai a observat că numerele prin care se exprimă cantitățile de echipament din cele trei rucsacuri au cel mai mic multiplu comun pe 40.



# Capitolul III

## FRAȚII ORDINARE

### Lecția 23. Frații ordinare



#### Citesc și rețin

**Definiție:** O pereche de numere naturale  $a$  și  $b$ ,  $b \neq 0$ , scrisă sub forma  $\frac{a}{b}$ , se numește **fracție ordinară**. Notația  $\frac{a}{b}$  se citește „ $a$  supra  $b$ ”.

Numerele naturale  $a$  și  $b$  se numesc **numărătorul**, respectiv **numitorul** fracției și sunt separate prin **linia de fracție**.

Numitorul unei fracții ne arată în câte părți egale a fost împărțit întregul, iar numărătorul ne arată câte astfel de părți au fost luate.

**Observație:** Oricare ar fi numărul natural  $a$ , acesta se scrie ca fracție ordinară:

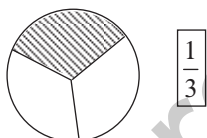
$$a = \frac{a}{1}.$$



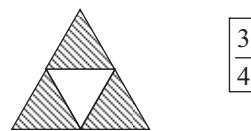
#### Cum se aplică?

1. Completați caseta cu fracția ordinară care reprezintă partea hașurată din următorul întreg:

a)



b)



**Soluție:**

a) Observăm că întregul a fost împărțit în trei părți egale, iar dintre acestea, una a fost hașurată, prin urmare fracția ordinară care reprezintă partea hașurată din întregul respectiv este  $\frac{1}{3}$ .

b) Observăm că întregul a fost împărțit în patru părți egale, iar dintre acestea, trei au fost hașurate, prin urmare fracția ordinară care reprezintă partea hașurată din întregul respectiv este  $\frac{3}{4}$ .

2. Scrieți fracția care reprezintă:

a) 5 zile dintr-o săptămână;

b) 41 de minute dintr-o oră.

**Soluție:**

a)  $\frac{5}{7}$ ;

b)  $\frac{41}{60}$ .



3. Scrieți fracțiile ordinare de forma  $\frac{3x}{29}$ , unde numărătorul este număr natural impar.

**Soluție:**

$3x$  este număr natural impar dacă cifra  $x$  este 1, 3, 5, 7 sau 9, prin urmare fracțiile sunt:  $\frac{31}{29}, \frac{33}{29}, \frac{35}{29}, \frac{37}{29}, \frac{39}{29}$ .



### Știu să rezolv

#### Exerciții și probleme de dificultate minimă

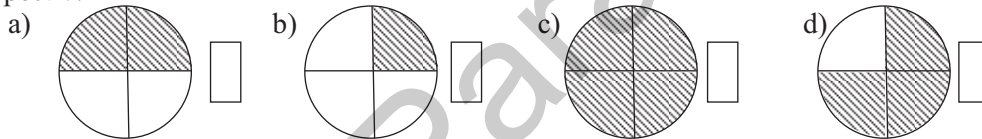
1. Citiți fracțiile următoare:

- a)  $\frac{2}{3}$ ;                      b)  $\frac{5}{6}$ ;                      c)  $\frac{4}{9}$ ;                      d)  $\frac{8}{7}$ .

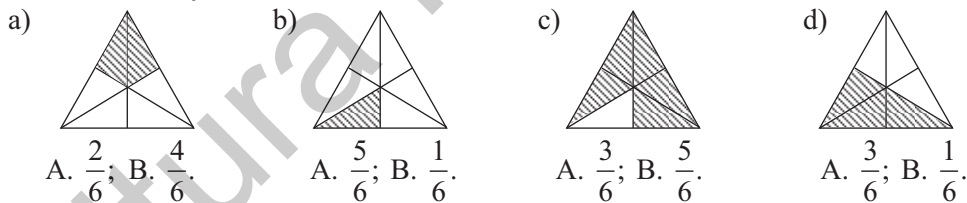
2. Completați spațiile punctate cu numitorii și numărătorii fracțiilor următoare:

- a)  $\frac{7}{4}$  .....;                      b)  $\frac{11}{23}$  .....;                      c)  $\frac{51}{16}$  .....;                      d)  $\frac{3}{8}$  .....

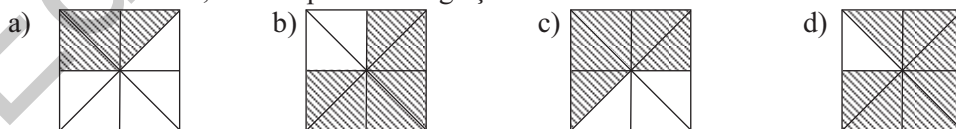
3. Completați caseta cu fracția ordinară care reprezintă partea hașurată din întregul respectiv:



4. Încercuiți litera corespunzătoare răspunsului corect. Partea hașurată din întreg este reprezentată de fracția ordinară:



5. În tabelul următor sunt înregistrate fracțiile ordinare care corespund părților hașurate din fiecare întreg. Completați caseta corespunzătoare cu litera A, dacă răspunsul este corect sau cu litera F, dacă răspunsul este greșit.



a)	b)	c)	d)
$\frac{3}{8}$	$\frac{2}{8}$	$\frac{5}{8}$	$\frac{7}{8}$



## Ce notă merit?

### Test de evaluare stadială

Se acordă 1 punct din oficiu.

(3p) 1. Efectuați:

a)  $\frac{28}{30} : \frac{21}{25}$ ;

b)  $\frac{32}{49} : 2\frac{2}{7}$ ;

c)  $1\frac{19}{56} : 2\frac{8}{21}$ .

(3p) 2. Aflați rezultatul calculului:  $2\frac{5}{6} - 2\frac{2}{9} : 4\frac{1}{6}$ .

(3p) 3. Scrieți sub forma cea mai simplă fracția ordinară  $f = \frac{27}{25} : 1\frac{5}{49} - \frac{36}{35} : 2\frac{6}{7}$  și apoi precizați inversa acesteia.

## Lecția 37. Aflarea unei fracții dintr-un număr natural. Aflarea unei fracții dintr-o fracție



### Citesc și rețin

**Aflarea unei fracții dintr-un număr natural:**  $\frac{a}{b}$  din  $c = \frac{a}{b} \cdot c = \frac{a \cdot c}{b}$ .

**Aflarea unei fracții dintr-o fracție:**  $\frac{a}{b}$  din  $\frac{c}{d} = \frac{a \cdot c}{b \cdot d}$ .



### Cum se aplică?

1. Calculați:

a)  $\frac{7}{8}$  din 24;

b)  $\frac{4}{9}$  din 30.

**Soluție:**

a)  $\frac{7}{8}$  din 24 =  $\frac{7 \cdot 24}{8} = 7 \cdot 3 = 21$ ;

b)  $\frac{4}{9}$  din 30 =  $\frac{4 \cdot 30}{9} = \frac{4 \cdot 10}{3} = \frac{40}{3}$ .

2. Calculați:

a)  $\frac{5}{6}$  din  $\frac{36}{25}$ ;

b)  $\frac{2}{9}$  din  $3\frac{3}{8}$ .

**Soluție:**

a)  $\frac{5}{6}$  din  $\frac{36}{25} = \frac{5 \cdot 36}{6 \cdot 25} = \frac{1 \cdot 6}{1 \cdot 5} = \frac{6}{5}$ ;

b)  $\frac{2}{9}$  din  $3\frac{3}{8} = \frac{2 \cdot 27}{9 \cdot 8} = \frac{1 \cdot 3}{1 \cdot 4} = \frac{3}{4}$ .



## INDICAȚII ȘI RĂSPUNSURI

### TESTE DE EVALUARE ÎNȚĂLĂ

#### Testul 1

Partea I:

Nr. item	1	2	3	4	5	6	7	8	9
Rezultate	C	B	D	A	B	A	D	C	D

Partea a II-a: **1.** 700. **2.** a)  $x$  poate fi: 0, 1, 2, 3, 4, 5 sau 6; b)  $x$  poate fi: 7, 8 sau 9. **3.** a) 36 lei; b) 54 lei; c) 90 lei.

#### Testul 2

Partea I:

Nr. item	1	2	3	4	5	6	7	8	9
Rezultate	D	B	B	B	A	B	D	B	A

Partea a II-a: **1.** 10. **2.** a)  $n = 1$ ; b)  $n = 1$  sau  $n = 2$  sau  $n = 3$ . **3.** a) 15 lei; b) 20 lei; c) 145 lei.

#### Testul 3

Partea I:

Nr. item	1	2	3	4	5	6	7	8	9
Rezultate	C	B	D	A	B	C	A	D	B

Partea a II-a: **1.** 4090. **2.** a)  $x = 9$  și  $y = 2$ ; b)  $x = 9$  și  $y = 0$  sau  $x = 9$  și  $y = 1$ . **3.** a) 234 caiete; b) 293 caiete; c) 650 caiete.

## ALGEBRĂ

### CAPITOLUL I. NUMERE NATURALE

#### Lecția 1. Scrierea și citirea numerelor naturale

**1.** a) 3 sute 58; b) 5 sute 4; c) 6 sute 12; d) 7 sute 90; e) 4 mii 123; f) 5 mii 17; g) 6 mii 704; h) 9 mii 820; i) 12 mii 345; j) 42 mii 38; k) 50 mii 821; l) 83 mii 106. **2.** a) 523 mii 149; b) 603 mii 468; c) 700 mii 207; d) 206 mii 46; e) 1 milion 20 mii 400; f) 2 milioane 203 mii 109; g) 6 milioane 6 mii 5; h) 40 de milioane 401 mii 108. **3.** a) 18, 81; b) 225, 252, 522, 552, 525, 255; c) 409, 490, 904, 940. **4.** a) 691, 961, 169, 619; b) 5780, 5870, 7580, 7850, 8570, 8750, 5078, 5708, 7058, 7508. **5.** a) 9301; b) 2902; c) 5039; d) 4064; e) 12005; f) 19007. **6.** a) 4803; b) 5701; c) 12358; d) 902804. **7.** a) 102070; b) 707009; c) 915008; d) 504106. **8.** a) 84209; b) 35842; c) 792085; d) 608943. **9.** a) 1204102; b) 3020700; c) 31100020; d) 65002805. **13.** a) A; b) A. **14.** a) luni și joi; b) joi și marți; c) miercuri și vineri.

**15.**

Numărul	75	100	5279	10692	90	406	9274	51179
Predecesorul	74	99	5278	10691	89	405	9273	51178
Succesorul	76	101	5280	10693	91	407	9275	51180

**16.** a) Clasa unităților, ordinul sutelor; b) Clasa miilor, ordinul unităților; c) Clasa miilor, ordinul zecilor; d) Clasa unităților, ordinul zecilor; e) Clasa miilor, ordinul zecilor; f) Clasa miilor, ordinul unităților; g) Clasa unităților, ordinul sutelor; h) Clasa miilor, ordinul sutelor. **17.** a) 54; b) 27; c) 382; d) 501; e) 9257; f) 4285; g) 50714; h) 95321. **18.** 11, 22, 33, 44, 55, 66, 77, 88, 99. **19.** a) C. 2 sau 8; b) D. 3 sau 7. **20.** a) 1070, 1272, 1474, 1676, 1878; b) 3511, 3533, 3555, 3577, 3599. **21.** i) a) 312, 321; b) 514, 523, 541, 532; ii) a) 199, 991, 393; b) 166, 661, 263, 362. **22.** a) 4132, 4231; b) 4133, 4331. **23.** a) 5640, 5604, 5622; b) 5650, 5632, 5614. **24.** a) 12235, 14135, 11435, 14531, 15431; b) 13233, 12333, 12139, 11239, 16133, 11633. **25.** a) 5100, 5142, 5184; b) 8050, 8652; c) 4700, 4714, 4728. **26.** 579. **27.** 90 de numere. **28.** Observăm că  $p = 500$  și  $i = 501$ . După fiecare „operație”, dacă cele trei numere sunt pare, rezultă  $p = p - 2$  și  $i = i$ ; dacă cele trei numere sunt impare, rezultă  $p = p$  și  $i = i - 2$ ; dacă două numere sunt pare și unul impar, rezultă  $p = p - 2$  și  $i = i$ , iar dacă două numere sunt impare și unul par, rezultă  $p = p$  și  $i = i - 2$ ; deci

16. a) 1028000; b) 1203000; c) 681000; d) 348600. 17.  $a + b + c = a \cdot b$  se scrie  $3(a + 2) = a(a + 2)$ , deci  $a = 3$ ,  $b = 5$ ,  $c = 7$ . 18. a)  $2m + 4n + 6p = 2m + 2p + 4n + 4p = 2(m + p) + 4(n + p) = 1410$ ; b) Analog obținem 2115. 19. a)  $xz + xt + yz + yt = x(z + t) + y(z + t) = (z + t)(x + y) = 5100$ ; b) Analog obținem 4095. 20. a)  $S_1 = 250500$ ; b)  $S_2 = 676368$ ; c)  $S_3 = 25250$ ; d)  $S_4 = 35350$ .

#### Ce notă merit? Test de evaluare stadială

1. a) 2900; b) 1960; c) 368000. 2. a) 3400; b) 42500. 3.  $m = 98$ .

#### Lecția 9. Împărțirea cu rest zero a numerelor naturale

1. a) 17; b) 21; c) 13; d) 16; e) 11; f) 15; g) 12; h) 13. 2. 14 lei. 3. a) 163; b) 82; c) 153; d) 106; e) 34; f) 54; g) 89; h) 94. 4. 162 parcări. 5. a) 32; b) 55; c) 54; d) 64; e) 49; f) 58; g) 48; h) 45. 6. 18 lei. 7. a) 45; b) 51; c) 72; d) 706; e) 840; f) 900. 8. 21 pagini. 9. a) 54; b) 68; c) 90; d) 690; e) 208; f) 600. 10. 365 bancnote. 11. a) 51; b) 47; c) 80; d) 720; e) 900; f) 640. 12. a) 32; b) 56; c) 75. 13. a) 576; b) 432; c) 384. 14. a) 3075; b) 5250; c) 22620; d) 96285. 15. a) 49; b) 11; c) 88; d) 45. 16. 2021. 17. 100 lei. 18. 30. 19. 803. 20. a)  $x = 24$ ; b)  $x = 36$ ; c)  $x = 45$ . 21. 150 plăci. 22. a) 151; b) 249. 23.  $a + b = 75 \cdot c + 75 \cdot d = 75(c + d) = 75 \cdot 391 = 29325$ ;  $29325 : 51 = 575$  rest 0. 24.  $a \cdot b \cdot c = 10000$ , deci  $a \cdot a = 100 \cdot 100$ , prin urmare  $a = 100$ ;  $a$ ,  $b$  și  $c$  pot fi: 100, 100, 1 sau 100, 50, 2 sau 100, 25, 4 sau 100, 20, 5 sau 100, 10, 10 sau 100, 5, 20 sau 100, 4, 25 sau 100, 2, 50 sau 100, 1, 100. 25. Făcând proba împărțirii rezultă că  $10a + b = a \cdot a + a \cdot b + a$  sau  $a(9 - a) = b(a - 1)$ , deci  $b = [a(9 - a)] : (a - 1)$ ;  $ab$  poate fi 39, 55, 90.

#### Ce notă merit? Test de evaluare stadială

1. a) 56; b) 38; c) 57. 2. a) 35; b) 163. 3. 225 lei.

#### Lecția 10. Împărțirea cu rest a numerelor naturale. Teorema împărțirii cu rest

1. a)  $c = 15$ ,  $r = 1$ ; b)  $c = 14$ ,  $r = 3$ ; c)  $c = 13$ ,  $r = 2$ ; d)  $c = 13$ ,  $r = 4$ ; e)  $c = 25$ ,  $r = 1$ ; f)  $c = 12$ ,  $r = 3$ ; g)  $c = 10$ ,  $r = 7$ ; h)  $c = 12$ ,  $r = 4$ . 2. 2 puieți. 3. a)  $c = 154$ ,  $r = 1$ ; b)  $c = 126$ ,  $r = 3$ ; c)  $c = 123$ ,  $r = 2$ ; d)  $c = 117$ ,  $r = 3$ ; e)  $c = 39$ ,  $r = 3$ ; f)  $c = 32$ ,  $r = 5$ ; g)  $c = 43$ ,  $r = 3$ ; h)  $c = 54$ ,  $r = 3$ . 4. 14 copii. 6. 11 platouri, 6 prăjituri. 7. a)  $565 = 22 \cdot 25 + 15$ ; b)  $604 = 23 \cdot 26 + 6$ ; c)  $795 = 24 \cdot 33 + 3$ ; d)  $812 = 25 \cdot 32 + 12$ ; e)  $885 = 27 \cdot 32 + 21$ ; f)  $942 = 26 \cdot 36 + 6$ ; g)  $987 = 35 \cdot 28 + 7$ ; h)  $917 = 36 \cdot 25 + 17$ . 8. 16 zile, 10 pagini. 9. a)  $5841 = 46 \cdot 126 + 45$ ; b)  $8183 = 52 \cdot 157 + 19$ ; c)  $6827 = 61 \cdot 111 + 56$ ; d)  $5207 = 37 \cdot 140 + 27$ ; e)  $33146 = 54 \cdot 613 + 44$ ; f)  $24506 = 65 \cdot 377 + 1$ ; g)  $54204 = 83 \cdot 653 + 5$ ; h)  $68009 = 72 \cdot 944 + 41$ . 10. 14 cutii, 25 pachete. 11. a) 0, 1, 2; b) 0, 1, 2, 3, 4; c) 0, 1, 2, 3, 4, 5, 6. 12. 1937. 13. 376, 377, 378, 379. 14. 7, 14, 21, 28, 35. 15. a)  $n = 45$ ; b)  $n = 37$ . 16. 860. 17. 5145. 18. 45, 90, 135, 180. 19. 72, 144, 216, 288, 360, 432, 504, 576, 648. 20. a)  $n = 8(9c + 7) + 5$ , deci  $r = 5$ ; b)  $n = 12(6c + 5) + 1$ , deci  $r = 1$ ; c)  $n = 18(4c + 3) + 7$ , deci  $r = 7$ ; d)  $n = 24(3c + 2) + 13$ , deci  $r = 13$ . 21. a)  $n = 5$ ; b)  $n = 7$ ; c)  $n = 15$ ; d)  $n = 23$ . 22. Dacă sunt 13 numere, suma resturilor este  $1 + 2 + 3 + \dots + 12 = 78$ ;  $85 - 78 = 7$ , prin urmare sunt 14 numere sau 15 numere. Dacă sunt 14 numere, atunci primul și ultimul dau restul 7 la împărțirea cu 13, deci suma lor împărțită la 13 dă restul 1, iar dacă sunt 15 numere, atunci primul și ultimul dau resturile 3, respectiv 4 la împărțirea cu 13, deci suma lor împărțită la 13 dă restul 7. 23.  $120 = 1 \cdot 2 \cdot 3 \cdot 4 \cdot 5$  sau  $120 = 2 \cdot 3 \cdot 4 \cdot 5$  sau  $120 = 4 \cdot 5 \cdot 6$  și, deoarece numai  $2 + 3 + 4 + 5$  se împarte la 7 cu restul 0, rezultă că sunt 4 numere:  $7k + 2$ ,  $7k + 3$ ,  $7k + 4$  și  $7k + 5$ . Numerele căutate sunt 93, 94, 95, 96. 24.  $\overline{abc} = \overline{ab} \cdot \overline{ac} + c$ , sau  $10\overline{ab} - \overline{ab} \cdot \overline{ac} = 0$ , deci  $\overline{ab}(10 - \overline{ac}) = 0$ , de unde rezultă că  $a = 1$  și  $c = 0$ . Pentru  $0 \leq b \leq 9$ , obținem numerele: 100, 110, 120, 130, 140, 150, 160, 170, 180 și 190. 25. Deoarece  $r < 11$  și  $q = r : 3$  rezultă că resturile sunt 9, 6 și 3;  $m = 11 \cdot 3 + 9$ ,  $p = 11 \cdot 2 + 6$  și  $n = 11 \cdot 1 + 3$ ; 84 pomi.

#### Ce notă merit? Test de evaluare stadială

1. a)  $q = 9$ ,  $r = 7$ ; b)  $q = 3$ ,  $r = 8$ ; c)  $q = 25$ ,  $r = 4$ . 2. a)  $q = 301$ ,  $r = 9$ ; b)  $q = 906$ ,  $r = 9$ . 3. 54 elevi.

#### Teste de evaluare sumativă

Testul 1. 5. 400000. 6. 34, 68. Testul 2. 5. 670, 671, 672. 6. 400. Testul 3. 5.  $m = 54$ . 6. 102, 103, 104.

## Lecția 22. Numere prime. Numere compuse

1. 2, 3, 5, 7, 11, 13, 17, 19. 2. a) Da; b) Da; c) Da; d) Da; e) Nu; f) Da; g) Da; h) Nu; i) Da. 3. a) Da; b) Da; c) Da; d) Nu; e) Da; f) Nu; g) Da; h) Nu; i) Da. 4. 7 mere, 2 mere. 5. a)  $15 = 2 + 13$ ; b)  $12 = 5 + 7$ ; c)  $10 = 5 + 5 = 3 + 7$ ; d)  $14 = 7 + 7 = 3 + 11$ ; e)  $16 = 3 + 13 = 5 + 11$ ; f)  $18 = 5 + 13 = 7 + 11$ ; g)  $20 = 3 + 17 = 7 + 13$ ; h)  $22 = 11 + 11 = 3 + 19 = 5 + 17$ ; i)  $24 = 5 + 19 = 7 + 17 = 11 + 13$ . 6. a)  $13 = 4 + 9$ ; b)  $17 = 8 + 9$ ; c)  $19 = 4 + 15 = 9 + 10$ ; d)  $23 = 8 + 15 = 9 + 14$ . 7. a) 2 și 23; b) 31 și 2; c) 2 și 47; d) 2 și 53. 8. a) 2 și 19; b) 2 și 37; c) 2 și 43; d) 2 și 29. 9. a)  $15 = 5 + 5 + 5 = 3 + 5 + 7 = 11 + 2 + 2$ ; b)  $20 = 2 + 5 + 13 = 2 + 7 + 11$ ; c)  $21 = 7 + 7 + 7 = 3 + 7 + 11 = 2 + 2 + 17 = 5 + 5 + 11 = 13 + 5 + 3$ ; d)  $26 = 2 + 5 + 19 = 2 + 11 + 13 = 17 + 7 + 2$ . 10. a)  $x \in \{1, 7\}$ ; b)  $x \in \{3, 9\}$ ; c)  $x \in \{1, 3, 9\}$ ; d)  $x = 7$ . 11. a)  $x = 3$ ; b)  $x \in \{3, 9\}$ ; c)  $x \in \emptyset$ ; d)  $x \in \{1, 7\}$ . 12. 14, 16. 13. Dacă  $n = 1$ , obținem numerele prime 5, 5, 7, dacă  $n = 2$ , obținem numerele compuse 8, 9, 12, iar dacă  $n = 3$ , obținem numerele prime 11, 13, 17. 14.  $n + n + 1 + n + 2 = 3(n + 1)$ , deci  $n = 0$ , prin urmare, cele trei numere sunt 0, 1, 2. 15. a)  $3^n$  este număr par, deci  $3^n + 7$  este număr par, așadar este multiplu al lui 2; b) Analog; c) Analog; d) Analog. 16. Numerele naturale de forma  $3k$ ,  $k \geq 1$ , sunt divizibile cu 3 și  $k$ , deci nu sunt prime. 17. Dacă  $p = 5$ , atunci  $p - 2 = 3$  și  $p + 2 = 7$ . Pentru  $p > 5$ , avem  $p = 3k + 1$ , deci  $p + 2 = 3(k + 1)$  este compus, sau  $p = 3k + 2$ , deci  $p - 2 = 3k$  este compus;  $p = 5$ . 18.  $S = a + b + c + d + e + f$ , deci  $S > 2$  și cum este și prim, rezultă că  $S$  este număr impar, deci unul dintre termenii sumei este număr par, așadar,  $a = 2$ ,  $b = 3$ ,  $c = 5$ ,  $d = 7$ ,  $e = 11$ ,  $f = 13$  și  $S = 41$ . 19. a)  $x = 2$ ,  $y = 3$ ; b)  $x = 7$ ,  $y = 2$ ; c)  $x = 5$ ,  $y = 2$ . 20. a)  $x = 5$ ,  $y = 3$ ; b)  $x = 11$ ,  $y = 7$ ; c)  $x = 3$ ,  $y = 13$ . 21. a)  $2^{n+4} \cdot 5^n - 1 = \underbrace{1599\dots99}_{n+2 \text{ cifre}}$  și, deoarece acest număr se divide cu 3 (suma cifrelor sale este multiplu de 3)

rezultă că numărul este compus; b) Analog; c) Analog; d) Analog. 22.  $\overline{ab0ab} = \overline{ab} \cdot 1001 = \overline{ab} \cdot 7 \cdot 11 \cdot 13$ , deci  $\overline{ab} = 3 \cdot 5 = 15$  sau  $\overline{ab} = 5 \cdot 17 = 85$ . 23.  $a = b \cdot c + 11$  și, deoarece  $a$  este număr prim, rezultă că  $a$  este impar, deci  $b \cdot c$  este număr par, prin urmare  $b > 11$  și  $c = 2$ , deci  $a = 13 \cdot 2 + 11$  și obținem  $a = 37$ . 24.  $a = b \cdot c + r$  și, deoarece  $a$  este număr prim, rezultă că  $a$  este impar, deci  $b \cdot c$  este număr impar și  $r$  este număr par sau  $b \cdot c$  este număr par și  $r$  este număr impar. În primul caz,  $r = 2$ , rezultă că  $b = 3$  și  $c = 5$  sau  $b = 5$  și  $c = 3$ , prin urmare,  $a = 17$ . Dacă  $b \cdot c$  este par, rezultă că  $r = 3$ ,  $b = 5$  și  $c = 2$ , prin urmare, în acest caz,  $a = 13$ , număr care reprezintă soluția problemei. 25. a) Numărul natural  $n$  poate fi de forma  $4k$ ,  $4k + 1$ ,  $4k + 2$ ,  $4k + 3$ , unde  $k$  este număr natural. Observăm că pentru  $n = 4k$  sau  $n = 4k + 2$ ,  $u(2^{n+2} + 3^n) = 5$ , iar pentru  $n = 4k + 1$  sau  $n = 4k + 3$ ,  $u(2^n + 3^n) = 5$ , prin urmare cele patru numere pot fi simultan prime numai în cazurile  $2^{n+2} + 3^n = 5$  și  $2^n + 3^n = 5$ . Din  $2^{n+2} + 3^n = 5$ , rezultă că  $n = 0$  și calculând obținem numerele 2, 3, 5, 9, dar 9 nu este prim, deci  $n = 0$  nu este soluție. Din  $2^n + 3^n = 5$ , rezultă că  $n = 1$  și calculând obținem numerele 5, 7, 11, 19, prin urmare soluția problemei este  $n = 1$ ; b) Analog se obține  $n = 1$ , în acest caz numerele sunt 5, 11, 29, 83.

### Ce notă merit? Test de evaluare stadială

1. a) 41, 43, 47; b) 51, 52, 54, 55, 56, 57, 58. 2. 13, 17, 31, 37, 71, 73, 79, 97. 3. a)  $a = 5$ ,  $b = 11$ .

### Teste de evaluare sumativă

Testul 1. 5. 15 săli de clasă. 6.  $a = 2$  și  $b = 5$ . Testul 2. 5. 84 de timbre. 6.  $a = 3$  și  $b = 5$ .

Testul 3. 5. 16 grupe. 6.  $\overline{ab} = 30$ .

### Fișă pentru portofoliul elevului

I. 1. F. 2. A. 3. A. II. 1. 28. 2.  $x = 3$  sau  $x = 9$ . 3. 61. III. 1. A. 2. A. 3. D. IV.  $\overline{abcabc} = \overline{abc} \cdot \overline{abc} \cdot 1001 = \overline{abc} \cdot 7 \cdot 11 \cdot 13$ , de unde rezultă că  $\overline{abcabc} = 2 \cdot 3 \cdot 5 \cdot 7 \cdot 11 \cdot 13 \cdot 17$ , deci  $\overline{abc} = 2 \cdot 3 \cdot 5 \cdot 17 = 510$ . V. a)  $x = 5$  și  $y = 11$ ; b)  $x = 2$  și  $y = 7$ .

### Model de test pentru Evaluarea Națională

1. A. Vârful Ascuit. 2. B. 4. 3. C. Pietricica. 4. 11 kg, 6 kg, 4 kg. 5. 8 kg, 5 kg, 4 kg. 6. 3 kg, 7 kg, 7 kg sau 5 kg, 5 kg, 7 kg. 7. 5 km, 7 km. 8. 6 km. 9. 9 km.

## CAPITOLUL III. FRAȚII ORDINARE

### Lecția 23. Frații ordinare

1. a) 2 supra 3; b) 5 supra 6; c) 4 supra 9; d) 8 supra 7. 2. a) 4, 7; b) 23, 11; c) 16, 51; d) 8, 3.  
3. a)  $\frac{2}{4}$ ; b)  $\frac{1}{4}$ ; c)  $\frac{4}{4}$ ; d)  $\frac{3}{4}$ . 4. a) A.  $\frac{2}{6}$ ; b) B.  $\frac{1}{6}$ ; c) B.  $\frac{5}{6}$ ; d) A.  $\frac{3}{6}$ . 5. a) A; b) F; c) A; d) A.  
6. a)  $\frac{2}{9}$ ; b)  $\frac{8}{5}$ ; c)  $\frac{3}{37}$ ; d)  $\frac{25}{4}$ . 7. a)  $\frac{1}{3}$ ; b)  $\frac{1}{2}$ ; c)  $\frac{1}{4}$ ; d)  $\frac{1}{5}$ . 8. a)  $\frac{3}{10}$ ; b)  $\frac{7}{10}$ . 9. a)  $\frac{25}{48}$ ; b)  $\frac{23}{48}$ .  
10.  $\frac{2}{3}$ . 11.  $\frac{3}{4}$ . 12. a)  $\frac{17}{60}$ ; b)  $\frac{29}{60}$ . 13. a)  $\frac{50}{71}$ ,  $\frac{52}{71}$ ,  $\frac{54}{71}$ ,  $\frac{56}{71}$ ,  $\frac{58}{71}$ ; b)  $\frac{89}{61}$ ,  $\frac{89}{63}$ ,  $\frac{89}{65}$ ,  $\frac{89}{67}$ ,  $\frac{89}{69}$ .  
14. a)  $x = 8$ ; b)  $x = 3$ ; c)  $x = 3$ ; d)  $x = 5$ . 15. a)  $\frac{42}{44}$ ; b)  $\frac{75}{77}$ ; c)  $\frac{66}{68}$ ; d)  $\frac{11}{13}$ . 16. a)  $\frac{3}{15}$ ,  $\frac{5}{15}$ ;  
b)  $\frac{3}{81}$ ,  $\frac{9}{81}$ ,  $\frac{27}{81}$ ; c)  $\frac{2}{28}$ ,  $\frac{4}{28}$ ,  $\frac{7}{28}$ ,  $\frac{14}{28}$ ; d)  $\frac{3}{45}$ ,  $\frac{5}{45}$ ,  $\frac{9}{45}$ ,  $\frac{15}{45}$ . 17. a)  $\frac{11}{11}$ ,  $\frac{13}{31}$ ,  $\frac{17}{71}$ ; b)  $\frac{13}{31}$ ,  
 $\frac{73}{37}$ ; c)  $\frac{17}{71}$ ,  $\frac{37}{73}$ ,  $\frac{97}{79}$ ; d)  $\frac{97}{79}$ . 18. a)  $\frac{210}{580}$ ,  $\frac{211}{582}$ ,  $\frac{212}{584}$ ,  $\frac{213}{586}$ ,  $\frac{214}{588}$ ; b)  $\frac{210}{580}$ ,  $\frac{213}{581}$ ,  $\frac{216}{582}$ ,  
 $\frac{219}{583}$ . 19. 36 de fracții. 20. Pentru  $a = 5$  și  $b = 2$ , fracția  $\frac{a-b}{a+2} = \frac{3}{7}$ ; pentru  $a > 5$  și  $b = 2$ , unul  
dintre numerele  $a - 2$  și  $a + 2$  este compus, deoarece are forma  $3k$ ;  $\frac{a}{b} = \frac{5}{2}$ .

### Ce notă merit? Test de evaluare stadială

1. a)  $\frac{2}{3}$ ; b)  $\frac{1}{5}$ ; c)  $\frac{5}{6}$ . 2.  $\frac{7}{12}$ . 3.  $\frac{27}{72}$ ,  $\frac{57}{75}$ ,  $\frac{77}{77}$ ,  $\frac{87}{78}$ .

### Lecția 24. Frații subunitare, echiunitare, supraunitare

1. a) A; b) A; c) F; d) A. 3. C.  $\overline{ab} = 13$ . 4. D.  $\overline{ab} = 53$ . 5. A.  $\overline{xy} = 62$ . 6. a)  $\frac{19}{19}$ ,  $\frac{2^4}{4^2}$ ,  $\frac{125}{53}$ ;  
b)  $\frac{1}{2}$ ,  $\frac{4}{9}$ ,  $\frac{12}{13}$ ; c)  $\frac{7}{3}$ ,  $\frac{71}{17}$ ,  $\frac{53}{49}$ . 7. a) 30; b) 328; c) 206; d) 64. 8. a)  $\frac{4}{1}$ ,  $\frac{4}{2}$ ,  $\frac{4}{3}$ ; b)  $\frac{6}{1}$ ,  $\frac{6}{2}$ ,  $\frac{6}{3}$ ,  
 $\frac{6}{4}$ ,  $\frac{6}{5}$ . 9. a)  $\frac{0}{3}$ ,  $\frac{1}{3}$ ,  $\frac{2}{3}$ ; b)  $\frac{0}{5}$ ,  $\frac{1}{5}$ ,  $\frac{2}{5}$ ,  $\frac{3}{5}$ ,  $\frac{4}{5}$ . 10.  $\frac{3}{2}$ ,  $\frac{5}{2}$ ,  $\frac{7}{2}$ ,  $\frac{5}{3}$ ,  $\frac{7}{3}$ ,  $\frac{7}{5}$ . 11.  $\frac{4}{6}$ ,  $\frac{4}{8}$ ,  $\frac{4}{9}$ ,  $\frac{6}{8}$ ,  
 $\frac{6}{9}$ ,  $\frac{8}{9}$ . 12.  $\frac{16}{16}$ ,  $\frac{25}{25}$ ,  $\frac{36}{36}$ ,  $\frac{49}{49}$ ,  $\frac{64}{64}$ ,  $\frac{81}{81}$ . 13. a) 8, 9; b)  $x = 7$ ; c) 0, 1, 2, 3, 4, 5, 6. 14. a) 0, 1, 2, 3,  
4; b) 5; c) 6, 7, 8, 9. 15. a) 1, 2, 3, 4; b) 5, 6, 7, 8, 9. 16. a)  $x = 5$  și  $y \in \{0, 1, 2, 3, 4, 5, 6, 7\}$  sau  $x \in \{6, 7, 8, 9\}$  și  $y \in \{0, 1, 2, 3, 4, 5, 6, 7, 8, 9\}$ ; b)  $x = 5$  și  $y = 9$  sau  $x \in \{1, 2, 3, 4\}$  și  
 $y \in \{0, 1, 2, 3, 4, 5, 6, 7, 8, 9\}$ . 17. a)  $x \leq 2$  și  $y = 6$  sau  $x \leq 9$  și  $y > 6$ ; b)  $x = 3$  și  $y = 6$ ; c)  $x > 3$   
și  $y = 6$  sau  $x \leq 9$  și  $y < 6$ . 18. a)  $n < 5$ ; b)  $n < 4$ ; c)  $n < 6$ ; d)  $n < 8$ . 19. a)  $n \leq 3$ ; b)  $n \leq 2$ ; c)  $n \leq 5$ ;  
d)  $n \leq 3$ . 20.  $\frac{13}{31}$ ,  $\frac{17}{71}$ ,  $\frac{37}{73}$ ,  $\frac{79}{97}$ . 21. a)  $2^{51} > 4^{25} = 2^{50}$ ; b)  $3^{43} > 9^{21} = 3^{42}$ ; c)  $5^{15} > 2^{30} = 4^{15}$ ; d)  $3^{38} =$   
 $= 9^{19} > 8^{19} = 2^{57}$ . 22. a)  $3^{62} < 27^{21} = 3^{63}$ ; b)  $2^{59} < 16^{15} = 2^{60}$ ; c)  $5^{34} = 25^{17} < 27^{17} = 3^{51}$ ; d)  $5^{21} = 125^7 <$   
 $< 128^7 = 2^{49}$ . 23. a)  $\frac{3^{31}}{2^{32} + 2^{29}} = \frac{9 \cdot 3^{29}}{9 \cdot 2^{29}}$ ; b)  $\frac{2^{20}}{3^{19} - 3^{17}} = \frac{8 \cdot 2^{17}}{8 \cdot 3^{17}}$ . 24.  $1 + 3 + 5 + \dots + (2n + 1) - x =$   
 $= 2 + 4 + 6 + \dots + 2n$  se scrie  $(n + 1)^2 - x = n(n + 1)$ , deci  $x = (n + 1)^2 - n(n + 1)$ , de unde  
obținem  $x = n + 1$ . 25.  $2^0 + 2^1 + 2^2 + \dots + 2^n = 2^{n+1} - 1$ , deci  $2^{n+1} > 2^0 + 2^1 + 2^2 + \dots + 2^n$ .

# Cuprins

<b>TESTE DE EVALUARE INIȚIALĂ</b> .....	5
<b>ALGEBRĂ</b> .....	8
<b>CAPITOLUL I. NUMERE NATURALE</b> .....	8
Lecția 1. Scrierea și citirea numerelor naturale .....	8
Lecția 2. Reprezentarea numerelor naturale pe axă .....	13
Lecția 3. Compararea și ordonarea numerelor naturale .....	15
Lecția 4. Aproximarea numerelor naturale. Rotunjiri .....	19
<i>Teste de evaluare sumativă</i> .....	23
<i>Fișă pentru portofoliul elevului</i> .....	24
Lecția 5. Adunarea numerelor naturale. Proprietățile adunării .....	25
Lecția 6. Scăderea numerelor naturale .....	28
Lecția 7. Înmulțirea numerelor naturale. Proprietățile înmulțirii .....	32
Lecția 8. Factor comun .....	35
Lecția 9. Împărțirea cu rest zero a numerelor naturale .....	39
Lecția 10. Împărțirea cu rest a numerelor naturale. Teorema împărțirii cu rest .....	42
<i>Teste de evaluare sumativă</i> .....	46
<i>Fișă pentru portofoliul elevului</i> .....	47
Lecția 11. Ridicarea la putere cu exponent natural a unui număr natural .....	48
Lecția 12. Pătrate perfecte .....	51
Lecția 13. Reguli de calcul cu puteri .....	54
Lecția 14. Compararea puterilor .....	57
Lecția 15. Scrierea numerelor naturale în baza 10. Scrierea numerelor naturale în baza 2 .....	60
<i>Teste de evaluare sumativă</i> .....	63
<i>Fișă pentru portofoliul elevului</i> .....	64
Lecția 16. Ordinea efectuării operațiilor și folosirea parantezelor .....	65
Lecția 17. Metode aritmetice de rezolvare a problemelor de matematică .....	68
<i>Teste de evaluare sumativă</i> .....	73
<i>Fișă pentru portofoliul elevului</i> .....	74
<i>Model de test pentru Evaluarea Națională</i> .....	75
<b>CAPITOLUL II. DIVIZIBILITATEA NUMERELOR NATURALE</b> .....	77
Lecția 18. Divizor. Multiplu .....	77
Lecția 19. Criterii de divizibilitate .....	80
<i>Teste de evaluare sumativă</i> .....	84
<i>Fișă pentru portofoliul elevului</i> .....	85
Lecția 20. Divizori comuni. Cel mai mare divizor comun a două sau mai multor numerelor naturale .....	86
Lecția 21. Multipli comuni. Cel mai mic multiplu comun a două sau mai multor numerelor naturale .....	89
Lecția 22. Numere prime. Numere compuse .....	92
<i>Teste de evaluare sumativă</i> .....	95
<i>Fișă pentru portofoliul elevului</i> .....	96
<i>Model de test pentru Evaluarea Națională</i> .....	97
<b>CAPITOLUL III. FRACȚII ORDINARE</b> .....	99
Lecția 23. Frații ordinare .....	99
Lecția 24. Frații subunitare, echiunitare, supraunitare .....	102
Lecția 25. Scoaterea întregilor din fracție. Introducerea întregilor din fracție .....	106



Lecția 26. Frații echivalente.....	109
<i>Teste de evaluare sumativă.....</i>	113
<i>Fișă pentru portofoliul elevului .....</i>	114
Lecția 27. Amplificarea fracțiilor .....	115
Lecția 28. Simplificarea fracțiilor .....	118
Lecția 29. Aducerea fracțiilor la același numitor comun .....	121
Lecția 30. Compararea fracțiilor ordinare.....	124
Lecția 31. Reprezentarea fracțiilor ordinare pe axa numerelor .....	128
<i>Teste de evaluare sumativă.....</i>	132
<i>Fișă pentru portofoliul elevului .....</i>	133
Lecția 32. Adunarea fracțiilor ordinare. Proprietățile adunării .....	135
Lecția 33. Scăderea fracțiilor ordinare.....	139
Lecția 34. Înmulțirea fracțiilor ordinare. Proprietățile înmulțirii .....	143
Lecția 35. Puterea cu exponent natural a unei fracții ordinare. Reguli de calcul cu puteri .....	147
Lecția 36. Împărțirea fracțiilor ordinare.....	151
Lecția 37. Aflarea unei fracții dintr-un număr natural. Aflarea unei fracții dintr-o fracție .....	155
Lecția 38. Procente. Aflarea unui procent dintr-un număr natural. Aflarea unui procent dintr-o fracție... ..	159
<i>Teste de evaluare sumativă.....</i>	163
<i>Fișă pentru portofoliul elevului .....</i>	164
<i>Model de test pentru Evaluarea Națională .....</i>	166
<b>MODELE DE TESTE PENTRU EVALUAREA CUNOȘTINTELOR .....</b>	<b>167</b>
<b>INDICAȚII ȘI RĂSPUNSURI.....</b>	<b>170</b>