

# UNIUNEA EUROPEANĂ – O ÎMPRIETENIRE DE ȚĂRI



Ioana și Radu mergeau spre casă în pasul ștregarului. Scăpaseră de la școală și erau veseli nevoie mare. Sfârșitul de săptămână se arăta frumos, așa că aveau prilejul să se plimbe cu bicicleta prin parc.

Când se opriă să-și mai tragă sufletul, fata îi spuse colegului ei că nu a înțeles de ce doamna le-a cerut să facă o compunere despre Europa.

— Nu despre Europa, ci despre Uniunea Europeană, o corectă Radu.

— Păi și care-i diferența?

— Europa e un continent... Ca Asia sau ca Africa...

— Aha, iar Uniunea Europeană e o țară, îl întrerupse fericită Ioana.

— Baa nuu! Nu-i așa! România este o țară, iar Uniunea Europeană nu.

— Păi atunci de ce are Parlament? Am auzit eu la televizor, că ține ședințe la Strasbourg și la Bruxelles.

— Ioana, Uniunea Europeană, cum să zic?, este „o împrietenire de țări”. Adică s-au unit, dar nu chiar de tot. Și România este în Uniune. N-ai văzut, la școală, că lângă tricolorul nostru stă un drapel albastru cu stelute în cerc? Ăla e steagul Uniunii Europene. Iar Parlamentul face legi pentru toate statele, ca al nostru.

Adică noi avem aceleași legi cu francezii?

— Nu, toate-toate, numai chestiile importante. Am auzit, de exemplu, că va fi adoptată una prin care fetițele trebuie să-și taie codițele.

— Tu râzi de mine, Radu, așa-i? Dar de unde știi atâtea?

— Doar puțin... Uite, am acasă o carte despre Uniunea Europeană pe înțelesul copiilor, ți-o împrumut, dacă vrei.

— Mulțumesc! Cine ajunge ultimul acasă rezolvă în plus un exercițiu la matematică!

Și Ioana o zbughi la fugă, profitând de faptul că Radu tocmai se apleca să-și încheie șiretul de la pantofi.

1. Citește textul și răspunde la întrebări:

- Care este numele celor două personaje?

- Despre ce vorbesc cei doi?

- Care este diferența între Europa și Uniunea Europeană?


- Cum arată steagul Uniunii Europene?

- De unde s-a informat băiatul despre Uniune?

2. Europa este un continent al contrastelor. Citește informațiile de mai jos și rezolvă exercițiul propus.




Calculează, în fiecare caz, care este diferența.

3. a) Observă datele notate, apoi unește denumirea fiecărui continent cu eticheta ce reprezintă ordinea sa ca întindere.

**AFRICA**  
30 309 069 KM<sup>2</sup>



**AMERICA DE NORD**  
**AMERICA DE SUD**  
42 323 000 KM<sup>2</sup>



**PRIMUL**

**AL DOILEA**

**ANTARCTICA**  
14 000 000 KM<sup>2</sup>



**ASIA**  
44 579 000 KM<sup>2</sup>



**AL TREILEA**

**AL PATRULEA**

**EUROPA**  
10 507 000 KM<sup>2</sup>



**AUSTRALIA**  
**(OCEANIA)**  
7 617 930 KM<sup>2</sup>



**AL CINCILEA**

**AL ȘASELEA**

b) Completează, pe spațiul dat, numele primelor trei continente în conformitate cu întinderea (suprafața) lor.

---







---

---

---

---

4. Observă câteva dintre preparatele culinare ale unor țări europene. Completează în interiorul fiecărui dreptunghi denumirea preparatului, precum și țara de proveniență.



5. Citește datele din tabel și colorează cu roșu bulina din dreptul statului cu suprafața cea mai mică, iar cu albastru bulina din dreptul statului cu suprafața cea mai mare.

<input type="radio"/>	Belgia	30.528 km <sup>2</sup>
<input type="radio"/>	Croația	56 599 km <sup>2</sup>
<input type="radio"/>	Danemarca	42 924 km <sup>2</sup>
<input type="radio"/>	Malta	315 km <sup>2</sup>
<input type="radio"/>	Slovacia	49 035 km <sup>2</sup>
<input type="radio"/>	Olanda	41 542 km <sup>2</sup>
<input type="radio"/>	Ungaria	93 011 km <sup>2</sup>
<input type="radio"/>	Bulgaria	110 370 km <sup>2</sup>
<input type="radio"/>	Austria	83 879 km <sup>2</sup>
<input type="radio"/>	România	238 391 km <sup>2</sup>